

T.C. İNKILAP TARİHİ VE ATATÜRKÇÜLÜK

ÜNİTE SONU BİREYSEL PERFORMANS ÇALIŞMASI

Adı Soyadı :
Sınıfı - Numarası :
Okulu :

Bir Kahraman Doğuyor

1.

Olan şeyler ve yapılacak şeyler, olduğu gibi ifade olunmalıdır. Yoksa safsatalar ile milleti kandırmak, onu birbirine düşürmek demektir. Kuralımız daima millete karşı gerçekleri ifade olmalıdır. Milleti aydınlatma bu demektir.



Mustafa Kemal'in bu düşüncesi aşağıdaki kişilik özelliklerinden hangisi ile daha çok ilişkilendirilebilir?

- A) Vatanseverlik B) Evrensellik
C) Açık sözlülük D) Liderlik

2. Mustafa Kemal ile ilgili aşağıda verilen şehir ve faaliyet eşleştirmelerinden hangisi yanlıştır?

- | | |
|---------------------|--|
| A) Selanik: | Askerî Rüştiyeyi okuduğu şehir |
| B) Sofya: | Ataşemiliterlik yaptığı şehir |
| C) İstanbul: | Vatan ve Hürriyet Cemiyetini ilk kurduğu yer |
| D) Manastır: | Askerî İdadiyi okuduğu şehir |

3. Beyza Öğretmen öğrencilerine yönelttiği "Sizce Atatürk'ün en belirgin özelliği nedir?" sorusu üzerine şu cevapları almıştır:

- Çağdaş ve yenilikçidir.
- Sanatçı ruhlu bir insandır.
- Vatanını seven iyi bir askerdir.
- Birlik ve beraberliği sağlayabilen bir yöneticidir.

Öğrencilerin verdiği cevaplardan yola çıkarak Atatürk'le ilgili ulaşılabilecek en kapsamlı ifade aşağıdakilerden hangisidir?

- A) Halkını seven bir yöneticidir.
B) Çok yönlü bir kişiliktir.
C) Yeniliklere önem verir.
D) İdeal bir savaşçıdır.

4. Mustafa Kemal'in Osmanlı Devleti dışındaki devletlerle ilgili de geniş bilgilerinin olmasında;

- I. Türk şiirlerine ve edebiyatına duyduğu ilgi,
- II. Avrupa'da resmi görevlerde bulunması,
- III. Yabancı dilde yazılmış kitap ve dergileri okuması

faaliyetlerinden hangileri etkili olmuştur?

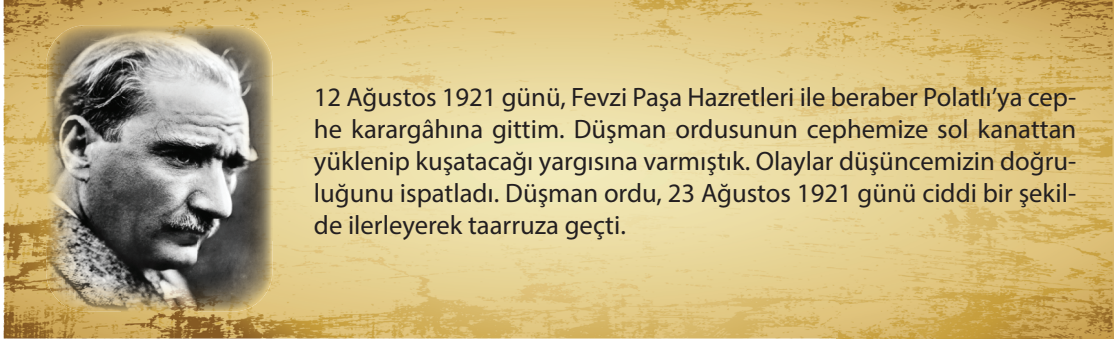
- A) Yalnız III. B) I ve II.
C) II ve III. D) I ve III.

T.C. İNKILAP TARİHİ VE ATATÜRKÇÜLÜK ÜNİTE SONU BİREYSEL PERFORMANS ÇALIŞMASI

Adı Soyadı :
Sınıfı - Numarası :
Okulu :

Bir Kahraman Doğuyor

5. Atatürk'ün Sakarya Meydan Muharebesi için yazdığı bir not şu şekildedir.



Bu bilgilere göre Atatürk'ün;

- I. cephede aktif olarak yer aldığı,
- II. ileri görüşlü bir insan olduğu,
- III. düşüncelerini kayıt altına aldığı

yargılarından hangilerine ulaşılabilir?

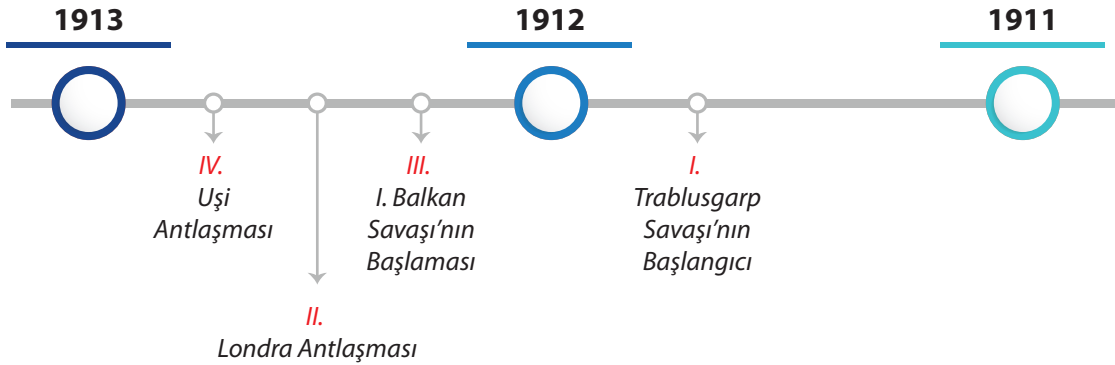
A) Yalnız II.

B) I ve III.

C) II ve III.

D) I, II ve III.

6.



Yukarıdaki zaman şeridinde numaralandırılmış alanların hangisi olması gereken konumda değildir?

A) I.

B) II.

C) III.

D) IV.

T.C. İNKILAP TARİHİ VE ATATÜRKÇÜLÜK

ÜNİTE SONU BİREYSEL PERFORMANS ÇALIŞMASI

Adı Soyadı :
Sınıfı - Numarası :
Okulu :

Bir Kahraman Doğuyor

7. Aşağıda verilen seçeneklerden hangisinde Atatürk'ün kurduğu yönetim şeklinin uluslararası bir etkiye sahip olduğu vurgulanmaktadır?

A)



Walter L.
Wright

O, kişisel kazanç ve ün peşinde koşan basit bir diktatör değil, gelecek kuşaklar için sağlam temeller atmaya çalışan bir kahramandı.

B)



Rauf
Orbay

Mustafa Kemal Paşa olmasaydı Anadolu'nun çeşitli bölgelerinde başlayan ve bir yurt seven düşüncenin mahsulü olan zayıf millî mukavemet hareketlerinin her biri ayrı ayrı kolayca bastırılabilirdi.

C)



Nikita
Kruşçev

Yakın ve Ortadoğu'da ilk cumhuriyet doğuşunu ona borçludur, bu cumhuriyet birçok ulusun milli özgürlük savaşlarına ışık tutmuştur.

D)



Turgut
Özakman

Dünyada ülkesini savaşta zafere ulaştıran birçok komutan var. Milletini daha ileri bir toplum yapmış birçok önder de var. Ama yokluk, yoksulluk içinde ikisini birden başarmış bir kişi var: Atatürk!

T.C. İNKILAP TARİHİ VE ATATÜRKÇÜLÜK

ÜNİTE SONU BİREYSEL PERFORMANS ÇALIŞMASI

Adı Soyadı :
Sınıfı - Numarası :
Okulu :

Bir Kahraman Doğuyor

8. Osmanlı Devleti topraklarının uluslararası bir pazara dönüşmesinde ve yabancı ülkelerin ürettikleri malları bu topraklarda rahatça satabilmesinde aşağıdakilerden hangisinin daha çok etkisi vardır?

- A) Kapitülasyonların
- B) Coğrafi keşiflerin
- C) Siyasi çekişmelerin
- D) Yabancı devletlerden alınan borçların

9. Osmanlı Devleti'nin 19. yüzyılda yayımlanan Tanzimat ve Islahat Fermanları ile ilgili,

- I. Bu fermanlar sayesinde azınlıklar isyan etmemiştir.
- II. Azınlıkları devlete bağlı tutmak amacıyla yayınlanmışlardır.
- III. Devleti dağılmaktan kurtarmıştır.

verilen bilgilerden hangileri doğrudur?

- A) Yalnız I. B) Yalnız II.
- C) II ve III. D) I ve III.

10.

Mustafa Kemal hayatının en kritik dönemlerinde dahi kitap okurdu. Hatıra defterine aldığı notlardan Başkomutanlık Meydan Muharebesi'nin hemen öncesinde bile kitap okuduğu anlaşılıyordu. Dinî, siyasi, askerî, edebî, felsefi ve tarihi konuların hepsi ile ilgili kitapları vardı. Ona göre "Kitap okumak hususi bir sanat"tı. Ayrıca bilimsel yayınları da inceler ve takip ederdi.

Bu durum Atatürk'ün aşağıdaki kişilik özelliklerinden hangisinin oluşmasına zemin hazırlamıştır?

- A) Vatan ve millet sevgisinin
- B) Çok yönlülüğünün
- C) Planlı ve programlı olmasının
- D) Lider ruhlu olmasının

T.C. İNKILAP TARİHİ VE ATATÜRKÇÜLÜK

ÜNİTE SONU BİREYSEL PERFORMANS ÇALIŞMASI

Adı Soyadı :
Sınıfı - Numarası :
Okulu :

Bir Kahraman Doğuyor

11. Mustafa Kemal'in düşünce dünyasında birçok ünlü düşünürün ve aydının izlerini görmek mümkündür.

Buna göre, Mustafa Kemal'in 'Türk Dil Kurumu' ve 'Türk Tarih Kurumu'nu oluşturmasında aşağıdakilerden hangisinin etkisi daha fazladır?

A)



Ziya Gökalp

B)




Tefik Fikret

C)



Montesquieu

D)



Jean Jacques
Rousseau

12. Avrupa'da yaşanan olaylar Osmanlı Devleti'ni de birçok açıdan olumsuz etkilemiştir. Bunlardan bazıları 19. ve 20. yüzyıllarda Osmanlı Devleti'nin millî sınırlarının değişmesine sebep olmuştur.

Aşağıdaki gelişmelerden hangisi bu duruma daha çok etki etmiştir?

- A) Reform hareketleri
- B) Sanayi İnkılabı
- C) Rönesans hareketleri
- D) Fransız İhtilali

13. Mustafa Kemal'in harp akademisi okurken fikirlerini yaymak için bir el gazetesi çıkardığı, okuldan sonra arkadaşlarıyla buluşarak devletin sorunlarıyla ilgili konuştuğu şehir aşağıdakilerden hangisidir?

- A) Manastır
- B) Ankara
- C) Selanik
- D) İstanbul

T.C. İNKILAP TARİHİ VE ATATÜRKÇÜLÜK ÜNİTE SONU BİREYSEL PERFORMANS ÇALIŞMASI

Adı Soyadı :
Sınıfı - Numarası :
Okulu :

Bir Kahraman Doğuyor

14.

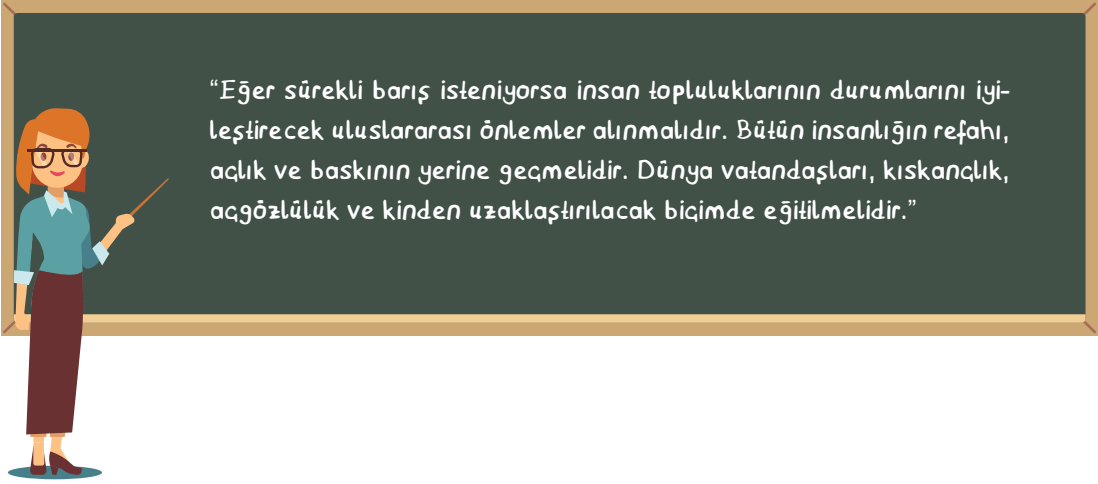


Ben size taarruzu emretmiyorum. Ölmeyi emrediyorum. Biz ölünceye kadar geçecek zaman içinde yerimize başka komutanlar ve başka kuvvetler gelecektir.

Atatürk'ün bu sözü söylediği savaş aşağıdakilerden hangisidir?

- A) I. Dünya Savaşı
- B) II. Balkan Savaşı
- C) Sakarya Meydan Muharebesi
- D) Trablusgarp Savaşı

15.



“Eğer sürekli barış isteniyorsa insan topluluklarının durumlarını iyileştirecek uluslararası önlemler alınmalıdır. Bütün insanlığın refahı, açlık ve baskının yerine geçmelidir. Dünya vatandaşları, kıskançlık, açgözlülük ve kinden uzaklaştırılacak biçimde eğitilmelidir.”

Ezgi Öğretmen Atatürk'ün yukarıdaki sözlerini öğrencilerine okuyarak onun hangi kişilik özelliğine vurgu yapmak istemiştir?

- A) Millet sevgisine
- B) Gerçekçiliğine
- C) İnsan sevgisine
- D) Bilime bağlılığına

T.C. İNKILAP TARİHİ VE ATATÜRKÇÜLÜK

ÜNİTE SONU BİREYSEL PERFORMANS ÇALIŞMASI

Adı Soyadı :
Sınıfı - Numarası :
Okulu :

Bir Kahraman Doğuyor

16. Osmanlı Devleti'nin son yüzyılında Türkçülük, Batıcılık, Osmanlıcılık ve İslamcılık gibi fikir akımları ortaya atılmıştır.

Aşağıdakilerden hangisi bu akımların hepsini kapsayan bir özelliktir?

- A) Osmanlı Devleti içinde yaşayan tüm milletleri ırk, din, dil ayrımı yapılmadan eşit kabul etmek.
B) Osmanlı Devleti çatısı altında yaşayan Müslümanları bir arada tutmak.
C) Osmanlı Devleti'nin dağılmasını önlemeye yönelik olmak.
D) Avrupa'nın bilim ve teknolojisinden faydalanarak Osmanlı'yı ayakta tutmak.

17.

Aşağıdakilerden hangisi Atatürk'ün kişilik özelliklerinden biri değildir?

- A) İrkçidir
B) Bütünleştiricidir
C) İdealisttir
D) Ben merkezcidir

Emre liselere giriş sınavlarına hazırlanmak için çözdüğü bir testte rastladığı yukarı sorunun iki tane doğru cevabı olduğunu farketmiştir.

Emre'nin bulduğu doğru seçenekler aşağıdakilerden hangisinde verilmiştir?

- A) C ve D
B) A ve B
C) B ve C
D) A ve D

18.

I. Manastır Askeri İdadisinde okuması

II. Selanik Mülkiye Rüştiyesinden ayrılıp Askeri Rüştiyeye geçmesi

III. İstanbul Harp Okulunu bitirip Harp Akademisine geçmesi

Bu gelişmelerin oluş sırası aşağıdakilerden hangisinde doğru verilmiştir?

- A) I - II - III
B) II - I - III
C) III - I - II
D) III - II - I

İSEM YAYINCILIK

19. II. Abdülhamid'in II. Meşrutiyet Dönemi'ni yeniden başlatmasında etkili olan cemiyet ve bu cemiyetin kurulmasında etkili olan grup aşağıdaki seçeneklerden hangisinde doğru verilmiştir?

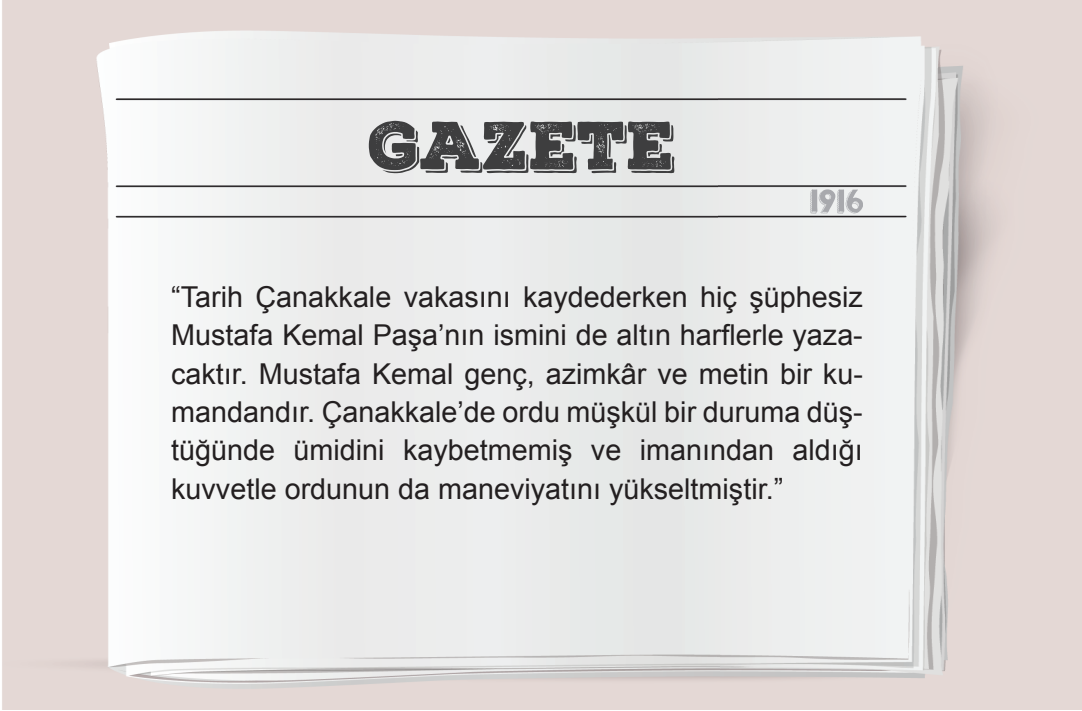
- A) Hürriyet ve Vatan - Hareket Ordusu
B) İngiliz Muhipleri - Mülkiyeliler
C) İttihat ve Terakki - Jön Türkler
D) Müdafaa-i Hukuk - Kilikyalılar

T.C. İNKILAP TARİHİ VE ATATÜRKÇÜLÜK ÜNİTE SONU BİREYSEL PERFORMANS ÇALIŞMASI

Adı Soyadı :
Sınıfı - Numarası :
Okulu :

Bir Kahraman Doğuyor

20. Çanakkale Savaşı'ndan sonra Atatürk'le ilgili gazetede yazan yazı şu şekildedir:



Mustafa Kemal ile ilgili bu ve buna benzer gazete yazılarının yayımlanması aşağıdakilerden hangisinin gerçekleşmesinde büyük rol oynamıştır?

- A) Millî egemenliği savunmasının
- B) Barışa olan inancının
- C) Halk tarafından tanınmasının ve benimsenmesinin
- D) Kurtuluş Savaşı'nın planını yapmasının



Bireysel performansınızı değerlendirmek için
"isemöğrenci" uygulamasından "üye girişi"
yaparak optik formu okutunuz.



YANITLAR	
1 (A) (B) (C) (D)	16 (A) (B) (C) (D)
2 (A) (B) (C) (D)	17 (A) (B) (C) (D)
3 (A) (B) (C) (D)	18 (A) (B) (C) (D)
4 (A) (B) (C) (D)	19 (A) (B) (C) (D)
5 (A) (B) (C) (D)	20 (A) (B) (C) (D)
6 (A) (B) (C) (D)	21 (A) (B) (C) (D)
7 (A) (B) (C) (D)	22 (A) (B) (C) (D)
8 (A) (B) (C) (D)	23 (A) (B) (C) (D)
9 (A) (B) (C) (D)	24 (A) (B) (C) (D)
10 (A) (B) (C) (D)	25 (A) (B) (C) (D)
11 (A) (B) (C) (D)	26 (A) (B) (C) (D)
12 (A) (B) (C) (D)	27 (A) (B) (C) (D)
13 (A) (B) (C) (D)	28 (A) (B) (C) (D)
14 (A) (B) (C) (D)	29 (A) (B) (C) (D)
15 (A) (B) (C) (D)	30 (A) (B) (C) (D)

ÖĞRENCİ NO

0	0	0	0	0	0
1	1	1	1	1	1
2	2	2	2	2	2
3	3	3	3	3	3
4	4	4	4	4	4
5	5	5	5	5	5
6	6	6	6	6	6
7	7	7	7	7	7
8	8	8	8	8	8
9	9	9	9	9	9

T.C. İNKILAP TARİHİ VE ATATÜRKÇÜLÜK

ÜNİTE SONU BİREYSEL PERFORMANS ÇALIŞMASI

Adı Soyadı :
Sınıfı - Numarası :
Okulu :

Millî Uyanış: Bağımsızlık Yolunda Atılan Adımlar

1. Aşağıdaki seçeneklerden hangisinde I. Dünya Savaşı'na zemin hazırlayan ekonomik ve siyasi gelişmeler sırasıyla verilmiştir?

	Ekonomik	Siyasi
A)	Panslavizm politikası	Fransız İhtilali
B)	Sömürgecilik	Pazar arayışı
C)	Milliyetçilik akımı	Avusturya - Macaristan velihtının ölümü
D)	Sanayi İnkılabı	Fransız İhtilali

- 2.



Kavram haritasındaki boşluğa aşağıdakilerden hangisi getirilmelidir?

- A) Trablusgarp Savaşı
B) Çanakkale Savaşı
C) Kafkas Cephesi
D) Kut'ul Amare

T.C. İNKILAP TARİHİ VE ATATÜRKÇÜLÜK

ÜNİTE SONU BİREYSEL PERFORMANS ÇALIŞMASI

Adı Soyadı :
Sınıfı - Numarası :
Okulu :

Millî Uyanış: Bağımsızlık Yolunda Atılan Adımlar

3. Sakarya Savaşı
 Kurtuluş Savaşı
 İkinci Balkan Savaşı
 Trablusgarp savaşı
 Çanakkale Savaşı

Mustafa Kemal'in katıldığı cephe ve savaşların kronolojik sıralaması aşağıdaki seçeneklerin hangisinde doğru verilmiştir?

A) , , , ,

B) , , , ,

C) , , , ,

D) , , , ,

4.

I. Dünya Savaşı'nın sonrasında Osmanlı ve Avusturya - Macaristan İmparatorlukları yıkılmış, Polonya, Yugoslavya, Çekoslovakya gibi devletler kurulmuştur. Uluslararası barışı sağlamak amacıyla Milletler Cemiyeti kurulmuştur. Savaşın galibi olan devletler gizli antlaşmalarla toprak paylaşımı yapmıştır. ABD'nin yayınladığı Wilson ilkelerinde hem itilaf hem de İttifak devletlerine yönelik maddeler yer almıştır.

Bu bilgilerden yola çıkılarak,

- I. Dünya barışı için adım atılmıştır.
II. Bazı çok uluslu devletler dağılmıştır.
III. Kazanan devletlerin maddi kaybı olmamıştır.

yargılarından hangilerine ulaşamaz?

A) Yalnız I.

B) Yalnız III.

C) I ve II.

D) II ve III.

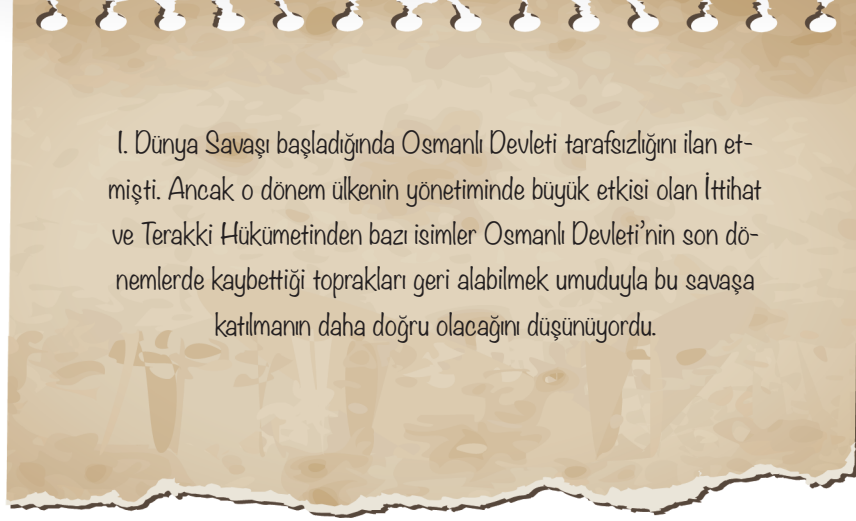
T.C. İNKILAP TARİHİ VE ATATÜRKÇÜLÜK

ÜNİTE SONU BİREYSEL PERFORMANS ÇALIŞMASI

Adı Soyadı :
Sınıfı - Numarası :
Okulu :

Millî Uyanış: Bağımsızlık Yolunda Atılan Adımlar

5.



Aşağıdaki isimlerden hangisi bu düşüncenin savunucuları arasında sayılabilir?

A) II. Abdülhamid

B) Enver Paşa

C) I. Abdülmecid

D) İsmet Paşa

6.

Hürriyet ve İtilaf Fırkası	Kilikyalılar Cemiyeti	Teali İslam Cemiyeti
Mavri Mira Cemiyeti	Kürt Teali Cemiyeti	Reddi İlhak Cemiyeti

Yukarıdaki şemadan millî varlığa düşman cemiyetler çıkarıldığında ortaya çıkacak şekil hangisi olmalıdır?

A)



B)



C)



D)



T.C. İNKILAP TARİHİ VE ATATÜRKÇÜLÜK

ÜNİTE SONU BİREYSEL PERFORMANS ÇALIŞMASI

Adı Soyadı :
Sınıfı - Numarası :
Okulu :

Millî Uyanış: Bağımsızlık Yolunda Atılan Adımlar

7.

	Kafkas Cephesi	Çanakkale Cephesi	Suriye - Filistin Cephesi
1. Erzurum ve Kars'ı düşman işgalinden korudu.	✓		
2. Yurt içinde ve yurt dışında tanındı.		✓	
3. 16. Kolordu Komutanı olarak Ruslara karşı mücadele etti.		✓	
4. Yıldırım Orduları Komutanı olarak İngilizleri Halep'in kuzeyinde durdurmuştur.			✓

Yukarıdaki tabloda verilen cephe ve ifadelerle ilgili hangileri doğru işaretlenmiştir?

A) 1 ve 3.

B) 2 ve 3.

C) 2 ve 4.

D) 1, 2 ve 4.

8. I. Dünya Savaşı ilk başladığında Bulgaristan henüz savaşa girmemişti. Ancak Çanakkale Savaşı'ndan sonra İttifak Devletlerinin yanında yer alarak savaşa katıldı.

Aşağıdaki seçeneklerden hangisinde bu durumun sebebi ve sonucu bir arada verilmiştir?

	Sebeup	Sonuç
A)	İttifak Devletleri'nin saldırısından çekinmesi	İttifak Devletlerinin I. Dünya Savaşı'nı kazanması
B)	Balkan Savaşları'nda kaybettiği toprakları yeniden kazanmak istemesi	Almanya'nın pes ederek savaştan çekilmesi
C)	Osmanlı Devleti'nin Çanakkale Savaşı'nda başarılı olması	Osmanlı Devleti'nin müttefikleri ile arasında kara bağlantısı kurulması
D)	Savaş alanının genişlemesi	Rusya'da Bolşevik ihtilali'nin çıkması

T.C. İNKILAP TARİHİ VE ATATÜRKÇÜLÜK

ÜNİTE SONU BİREYSEL PERFORMANS ÇALIŞMASI

Adı Soyadı :
Sınıfı - Numarası :
Okulu :

Millî Uyanış: Bağımsızlık Yolunda Atılan Adımlar

9. Bir öğretmen öğrencilerine Kurtuluş Savaşı'na hazırlık dönemi ile ilgili aşağıda verilen doğru - yanlış etkinliğini hazırlamıştır.

	Doğru	Yanlış
I. Amasya Genelgesi ile ilk defa halk direnişe çağırılmıştır.	✓	
II. Erzurum Kongresi devam ederken Mustafa Kemal Paşa askerlik görevinden ayrılmıştır.	✓	
III. Sivas Kongresi'nde manda ve himaye fikri reddedilmiştir.		✓
IV. Millî Mücadele'nin resmî yayın organı Hakimiyeti Millîye gazetesidir.	✓	

Bu etkinliğe yukarıdaki tabloda olduğu gibi cevap veren bir öğrenci hangi ifadelere doğru cevap vermiştir?

A) I ve II.

B) I ve III.

C) II ve IV.

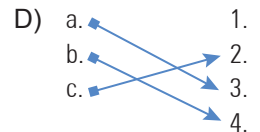
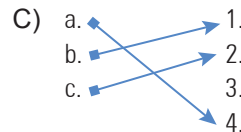
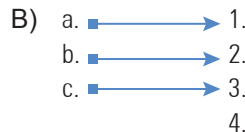
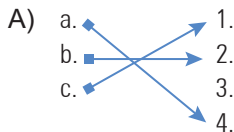
D) III ve IV.

10.

- a. Azınlıklara, yabancı devletlerdeki Türk azınlıklara tanınan haklar kadar hak tanınacaktır.
- b. Kars, Ardahan ve Batum için gerekirse tekrar halk oylaması yapılacaktır.
- c. Tam bağımsızlık için ekonomi ve millî gelişmemizi engelleyen her türlü siyasi, adli ve mali sınırlamalar kaldırılmalıdır.

1. Halkın egemenliğine saygı duyulmuştur.
2. Kapitülasyonlar reddedilmiştir.
3. Millî Mücadele'nin devam edeceği vurgulanmıştır.
4. Uluslararası eşitlik ilkesine önem verilmiştir.

Yukarıda verilen Misakımillî kararları ve bu kararlardan çıkarılabilecek sonuçlar oklar ile eşleştirildiğinde hangi şekil ortaya çıkmalıdır?



T.C. İNKILAP TARİHİ VE ATATÜRKÇÜLÜK

ÜNİTE SONU BİREYSEL PERFORMANS ÇALIŞMASI

Adı Soyadı :
Sınıfı - Numarası :
Okulu :

Millî Uyanış: Bağımsızlık Yolunda Atılan Adımlar

11. I. Dünya Savaşı'nın sonuna doğru ABD'nin Almanya'ya savaş ilan etmesine sebep olan gelişme aşağıdakilerden hangisidir?

- A) ABD'nin İngiltere'ye mal taşıyan gemilerinin Almanlar tarafından batırılması
- B) Almanya'nın ABD sömürgelerine saldırmaya başlaması
- C) Almanya'nın barış için yayınlanmış olan Wilson İlkeleri'ne uymaması
- D) Almanya'nın savaşı kaybedeceğini düşünerek tazminat ve toprak elde etme isteği

12. Aşağıdaki cemiyetlerden hangisi kuruluşu ve savundukları bakımından "tam bağımsızlık" ilkesine aykırı hareket etmektedir?

- A) Wilson Prensipleri Cemiyeti
- B) Millî Kongre Cemiyeti
- C) Reddi İlhak Cemiyeti
- D) Trakya Paşaeli Cemiyet

13. Millî Mücadeleye Hazırlık Dönemi'nde kurulmuş olan Kilikyalılar Cemiyeti'nin etkinlik gösterdiği alan aşağıdakilerden hangisidir?

- A) İzmir ve çevresi
- B) Trabzon ve çevresi
- C) Doğu Anadolu
- D) Çukurova ve çevresi

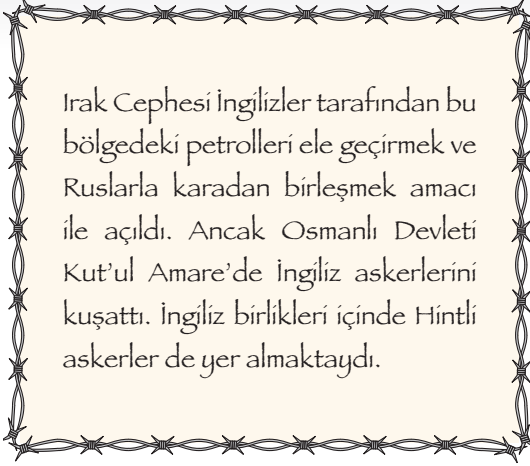
T.C. İNKILAP TARİHİ VE ATATÜRKÇÜLÜK

ÜNİTE SONU BİREYSEL PERFORMANS ÇALIŞMASI

Adı Soyadı :
Sınıfı - Numarası :
Okulu :

Millî Uyanış: Bağımsızlık Yolunda Atılan Adımlar

14.



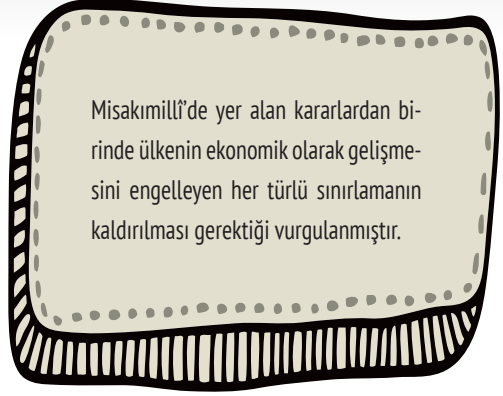
Bu bilgiler,

- I. İngilizlerin Irak Cephesi'ni açmasının altında mali sebepler de yer alır.
- II. Osmanlı Devleti bir çaba sarfetmeden kuşatmayı kazanmıştır.
- III. İngilizler sömürgelerindeki insan gücünden faydalanmaktadır.

yargılarından hangilerine kanıt teşkil etmektedir?

- A) Yalnız I. B) Yalnız II.
C) I ve III. D) II ve III.

15.



Bu karar ile aşağıdakilerden hangisine karşı çıkmıştır?

- A) Kapitülasyonlara
B) Direnişe
C) İşgallere
D) Manda ve himayeye

İSEM YAYINCILIK